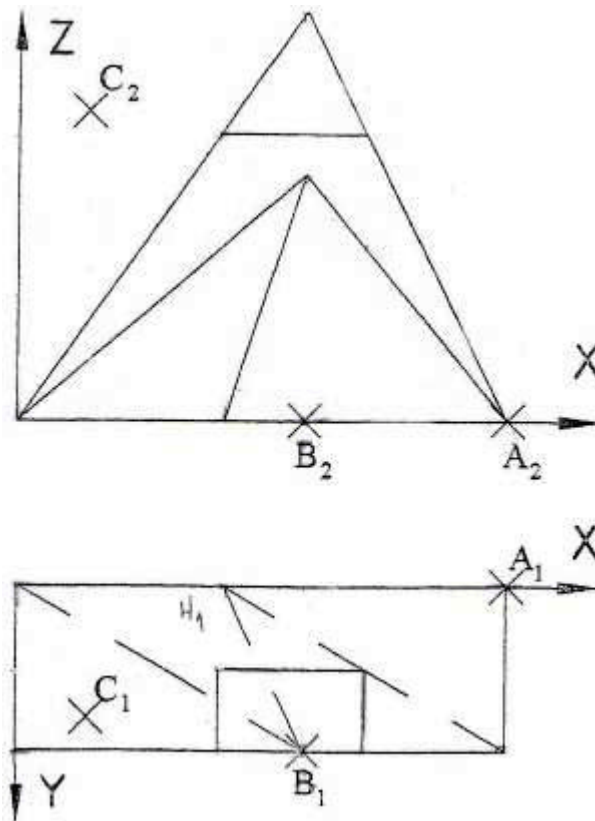


TRAZOIDE. Dibujo técnico por Antonio Castilla

Trazar la perspectiva caballera e isométrica de la siguiente pieza

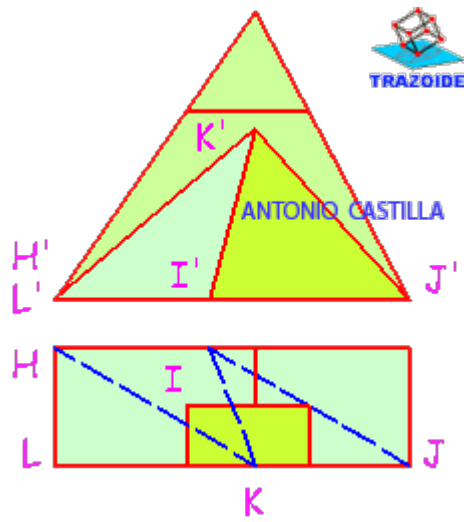


SOLUCIÓN

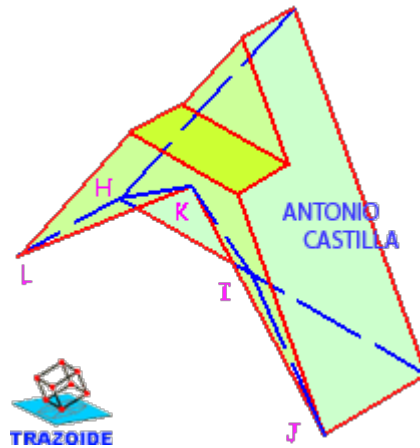
Esta es la perspectiva caballera :



Para comprender la forma es recomendable ser capaz de relacionar los puntos de las vistas con los de la perspectiva :



Y visto en perspectiva isométrica sería así :



PARA PLANTEAR DUDAS IR AL FORO <http://trazoide.com/forum/>

PARA VER EXPLICACIONES EN VÍDEOS IR A LA SECCIÓN DE VÍDEOS <http://trazoide.com/videos/>

PARA BUSCAR O COMPRENDER ALGÚN TÉRMINO IR A LA WIKI <http://trazoide.com/wiki/>

PARA VER MÁS PROBLEMAS IR A LA WEB <http://trazoide.com/>

PARA VER NOVEDADES Y CURIOSIDADES IR AL BLOG <http://trazoide.com/blog/>

copyright © Antonio Castilla