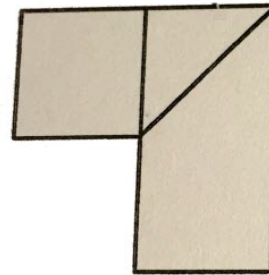
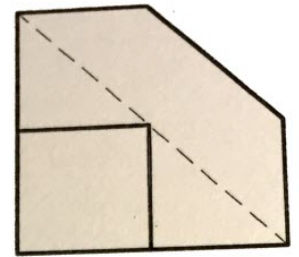
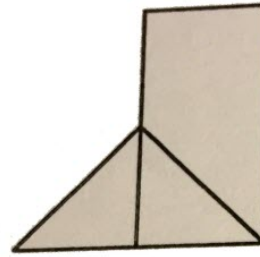


Dibujar en perspectiva isométrica la pieza dada.

SOLUCIÓN

Esta es la perspectiva isométrica :



- PARA VER LOS VÍDEOS DEL CANAL TRAZOIDE IR A <https://www.youtube.com/user/canaltrazoide/videos>
- PARA PLANTEAR DUDAS IR AL FORO <http://trazoide.com/foro/>
- PARA VER EXPLICACIONES EN VÍDEOS IR A LA SECCIÓN DE VÍDEOS <http://trazoide.com/videos/>
- PARA EJERCICIOS DE CAD IR A BLOG DE CAD <http://trazoide.com/cad/>
- PARA BUSCAR O COMPRENDER ALGÚN TÉRMINO IR AL GLOSARIO <http://trazoide.com/glosario/>
- PARA CONSULTAR MÁS EJERCICIOS RESUELTOS IR <http://trazoide.com/ejercicios-de-dibujo-tecnico/>