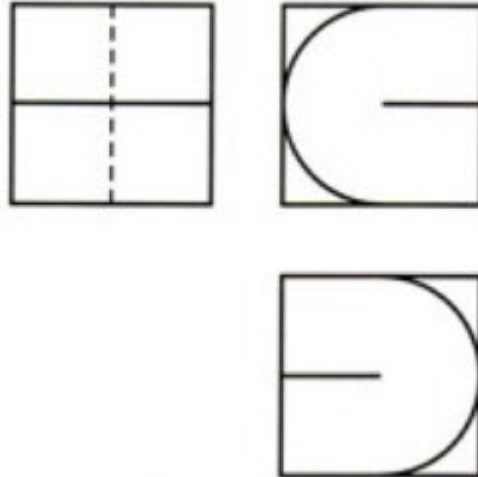


## TRAZOIDE. Dibujo técnico por Antonio Castilla

Dibujar la perspectiva isométrica del cuerpo dado por sus vistas diédricas, que puede considerarse inscrito en un hexaedro o cubo de 50 mm de arista :

### **EJERCICIO 2**

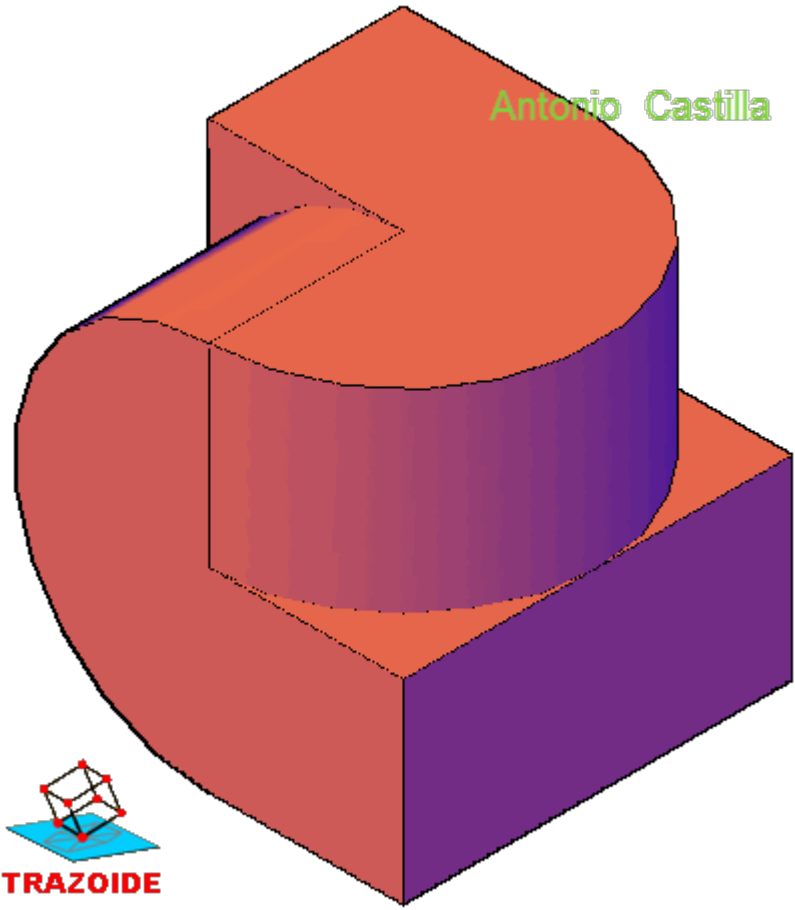
Dibujar la perspectiva isométrica del cuerpo dado por sus vistas diédricas, que puede considerarse inscrito en un hexaedro o cubo de 50 mm. de arista.



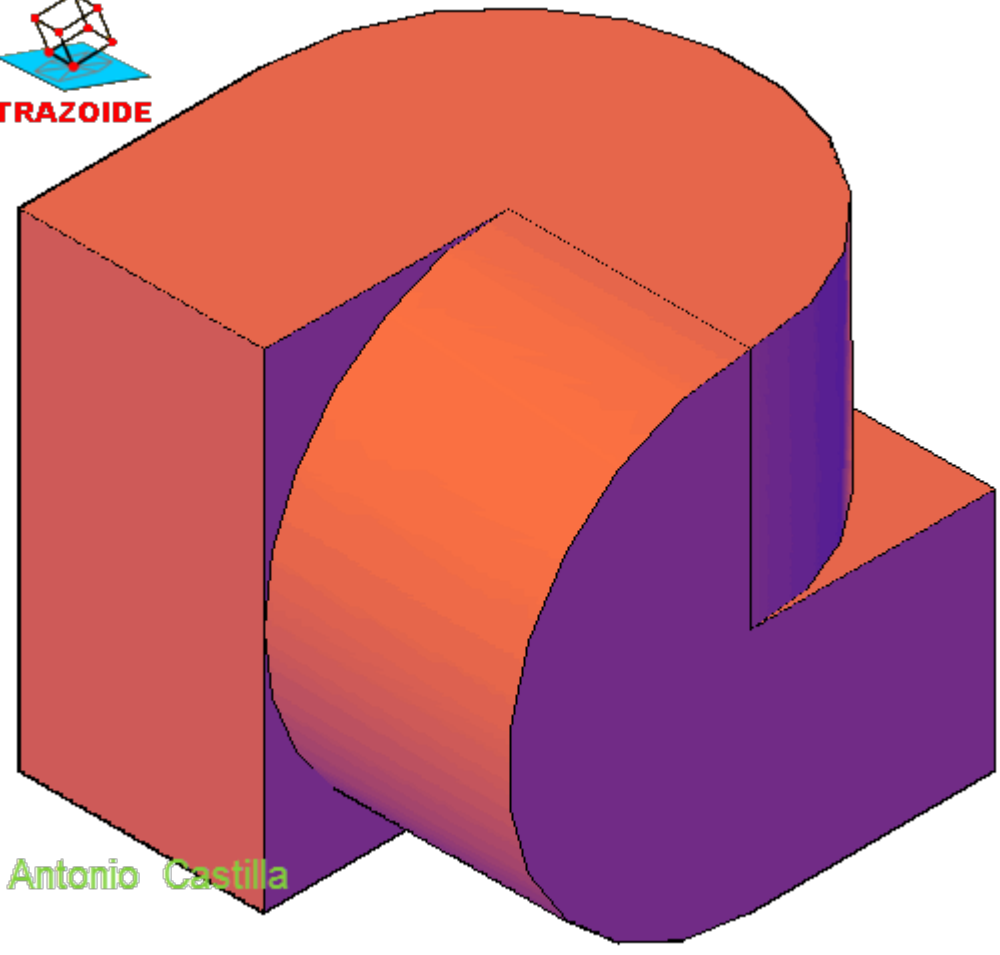
### **SOLUCIÓN**

Las dos siguientes son perspectivas isométricas :

Antonio Castilla



Esta perspectiva es vista desde atrás para que se aprecie la forma :



Antonio Castilla

**PARA PLANTEAR DUDAS IR AL FORO <http://trazoide.com/forum/>**

**PARA VER EXPLICACIONES EN VÍDEOS IR A LA SECCIÓN DE VÍDEOS <http://trazoide.com/videos/>**

**PARA BUSCAR O COMPRENDER ALGÚN TÉRMINO IR A LA WIKI <http://trazoide.com/wiki/>**

**PARA VER MÁS PROBLEMAS IR A LA WEB <http://trazoide.com/>**

**PARA VER NOVEDADES Y CURIOSIDADES IR AL BLOG <http://trazoide.com/blog/>**

copyright © Antonio Castilla