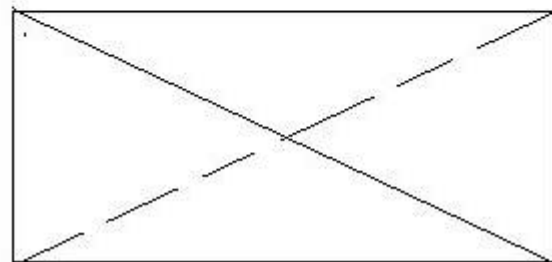
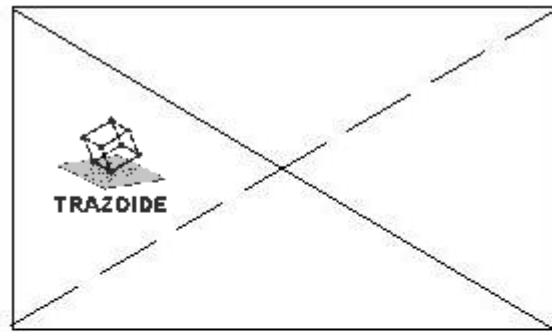


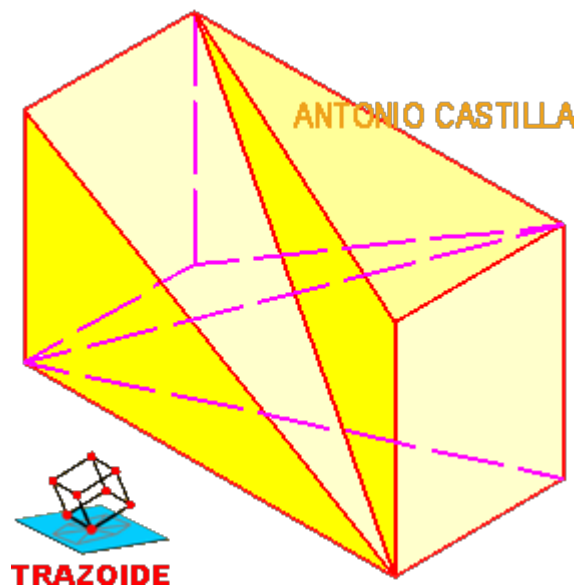
[TRAZOIDE. Dibujo técnico por Antonio Castilla](#)

Dado el alzado y la planta (ambos iguales) de la siguiente pieza, dibujar la perspectiva isométrica.



SOLUCIÓN

Esta es la perspectiva isométrica pedida :



PARA PLANTEAR DUDAS IR AL FORO <http://trazoide.com/forum/>

PARA VER EXPLICACIONES EN VÍDEOS IR A LA SECCIÓN DE VÍDEOS <http://trazoide.com/videos/>

PARA BUSCAR O COMPRENDER ALGÚN TÉRMINO IR A LA WIKI <http://trazoide.com/wiki/>

PARA VER MÁS PROBLEMAS IR A LA WEB <http://trazoide.com/>

PARA VER NOVEDADES Y CURIOSIDADES IR AL BLOG <http://trazoide.com/blog/>

copyright © Antonio Castilla