


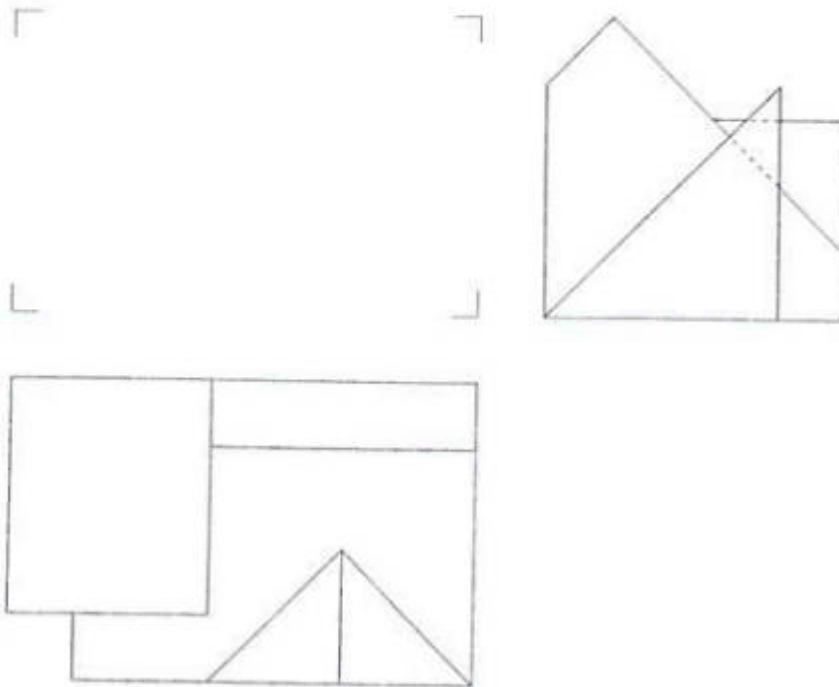
TRAZOIDE. Dibujo técnico por Antonio Castilla

Selectividad Galicia 2003.

Dada la planta y el perfil de la siguiente pieza, dibujar el alzado y la isometría a escala 1/1 sin coeficientes de reducción.

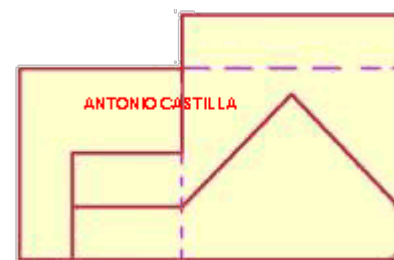
	PAAU (LOXSE)	Código:
	XUÑO 2003	
D E B U X O	T É C N I C O	
B L O Q U E 2		

2B Dada la planta y el perfil de la siguiente pieza, dibuja el alzado y la isometría a escala 1/1 sin coeficientes de reducción.
Dada a planta e o perfil da seguinte peza, debuxa o alzado e a isometría a escala 1/1 sin coeficientes de reducción.

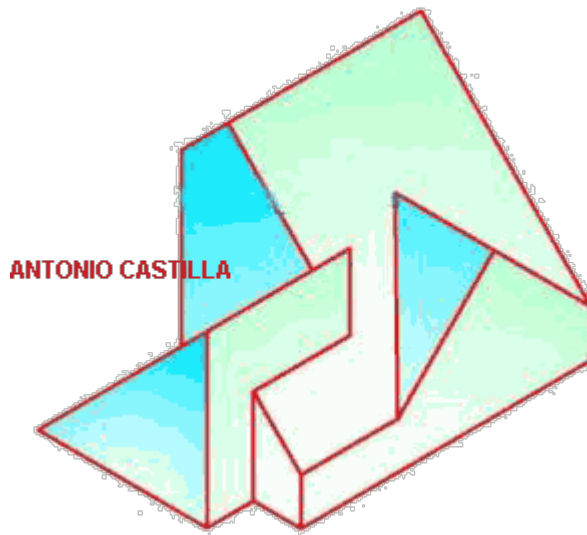


SOLUCIÓN

Este es el alzado :



Esta es la perspectiva isométrica pedida :



PARA PLANTEAR DUDAS IR AL FORO <http://trazoide.com/forum/>

PARA VER EXPLICACIONES EN VÍDEOS IR A LA SECCIÓN DE VÍDEOS <http://trazoide.com/videos/>

PARA BUSCAR O COMPRENDER ALGÚN TÉRMINO IR A LA WIKI <http://trazoide.com/wiki/>

PARA VER MÁS PROBLEMAS IR A LA WEB <http://trazoide.com/>

PARA VER NOVEDADES Y CURIOSIDADES IR AL BLOG <http://trazoide.com/blog/>

copyright © Antonio Castilla