
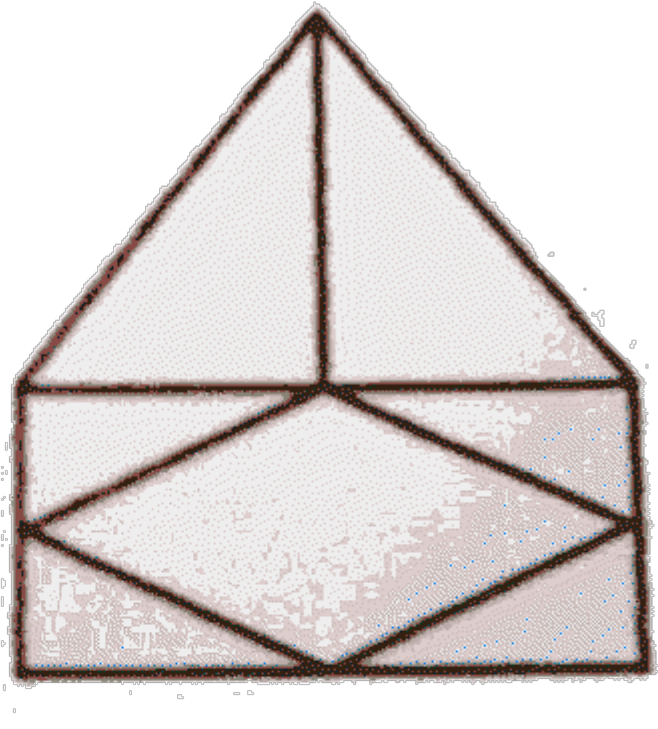
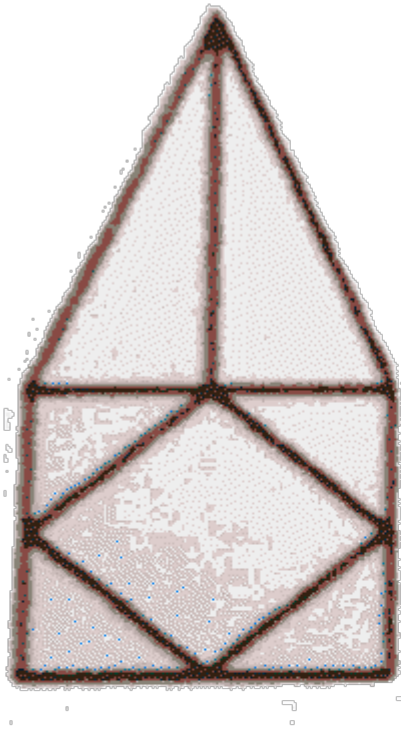


## TRAZOIDE. Dibujo técnico por Antonio Castilla

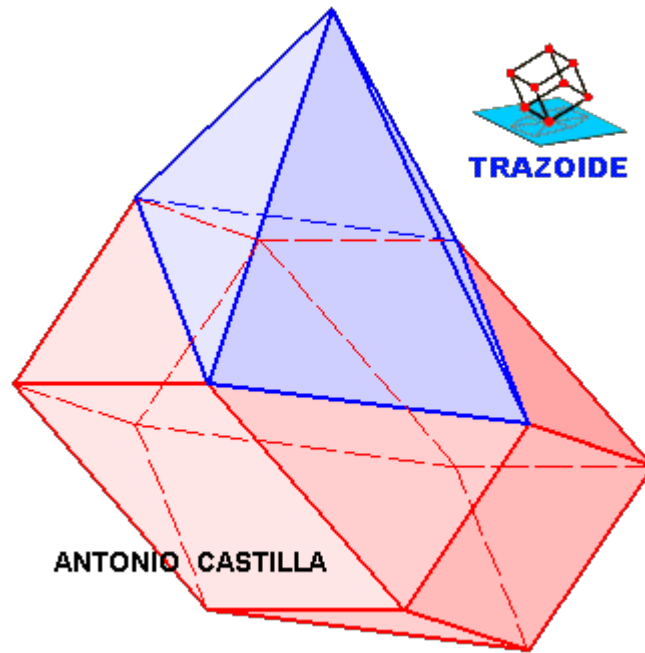
Dada la pieza definida por su alzado, planta y perfil derecho dibujar su perspectiva en el sistema isométrico :



### SOLUCIÓN

El cuerpo se puede suponer compuesto de un ortoedro (caja) con las esquinas achaflanadas y encima una pirámide recta de base romboidal.

La perspectiva isométrica sería así :



PARA PLANTEAR DUDAS IR AL FORO <http://trazoide.com/forum/>

PARA VER EXPLICACIONES EN VÍDEOS IR A LA SECCIÓN DE VÍDEOS <http://trazoide.com/videos/>

PARA BUSCAR O COMPRENDER ALGÚN TÉRMINO IR A LA WIKI <http://trazoide.com/wiki/>

PARA VER MÁS PROBLEMAS IR A LA WEB <http://trazoide.com/>

PARA VER NOVEDADES Y CURIOSIDADES IR AL BLOG <http://trazoide.com/blog/>

copyright © Antonio Castilla