


TRAZOIDE. Dibujo técnico por Antonio Castilla

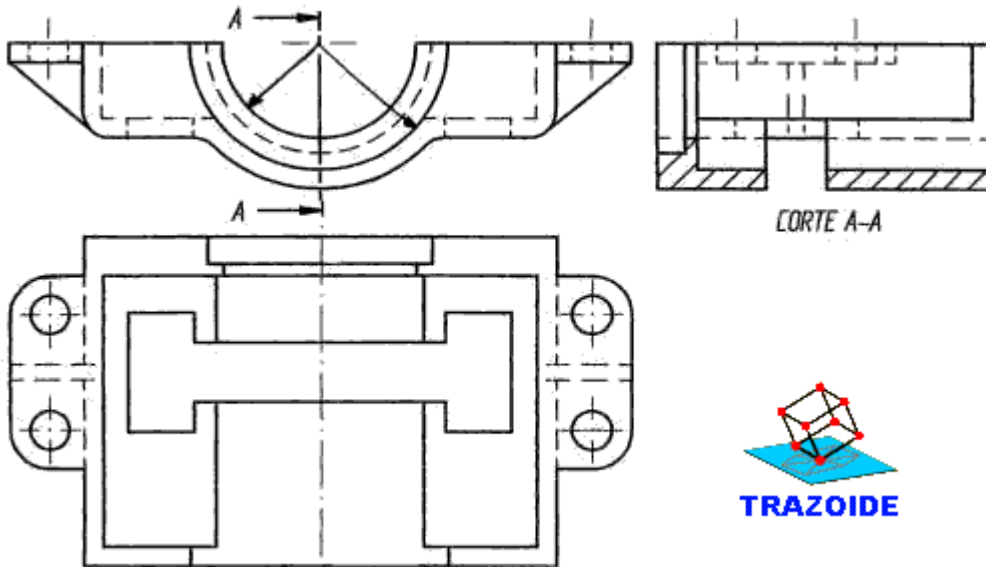
Dadas las vistas adjuntas, se pide dibujar a mano alzada la perspectiva axonométrica de la pieza y acotar la misma.

Se podrán hacer los cortes que se crean necesarios para la mejor definición de la misma, tanto en la perspectiva como en vistas, para poder acotarla correctamente según normas.

	ESCUELA SUPERIOR DE INGENIEROS UNIVERSIDAD DE SEVILLA EXPRESIÓN GRÁFICA	INGENIERO INDUSTRIAL CURSO 2008/09	Hoja N°
			Total de

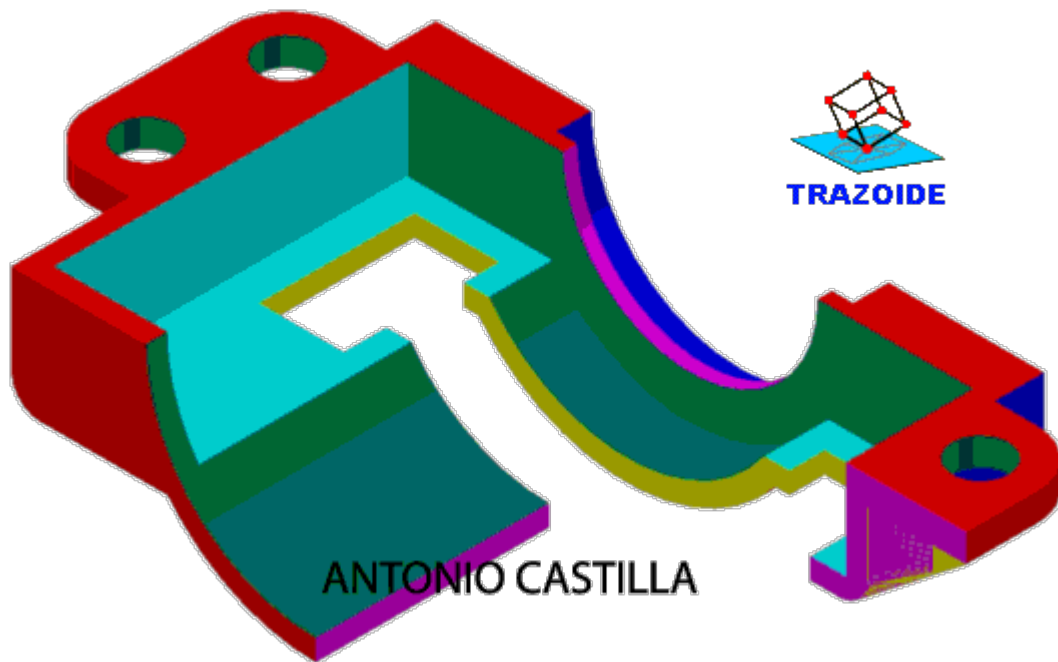
Dadas las vistas adjuntas, se pide dibujar a mano alzada la perspectiva aproximadamente axonométrica de la pieza y acotar la misma.

Se podrán hacer los cortes que se crean necesarios para la mejor definición de la misma, tanto en la perspectiva como en vistas, para poder acotarla correctamente según normas.



SOLUCIÓN

Esta es la perspectiva isométrica con un cuarto de corte :



PARA PLANTEAR DUDAS IR AL FORO <http://trazoide.com/forum/>

PARA VER EXPLICACIONES EN VÍDEOS IR A LA SECCIÓN DE VÍDEOS <http://trazoide.com/videos/>

PARA BUSCAR O COMPRENDER ALGÚN TÉRMINO IR A LA WIKI <http://trazoide.com/wiki/>

PARA VER MÁS PROBLEMAS IR A LA WEB <http://trazoide.com/>

PARA VER NOVEDADES Y CURIOSIDADES IR AL BLOG <http://trazoide.com/blog/>

copyright © Antonio Castilla