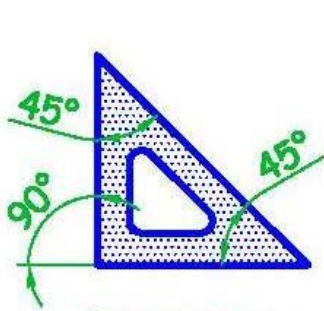


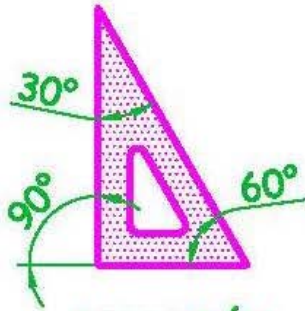
Dibujar o medir ángulos con la escuadra y el cartabón.

SOLUCIÓN


Para dibujar ángulos con la escuadra y el cartabón seguir las siguientes ilustraciones :



ESCUADRA

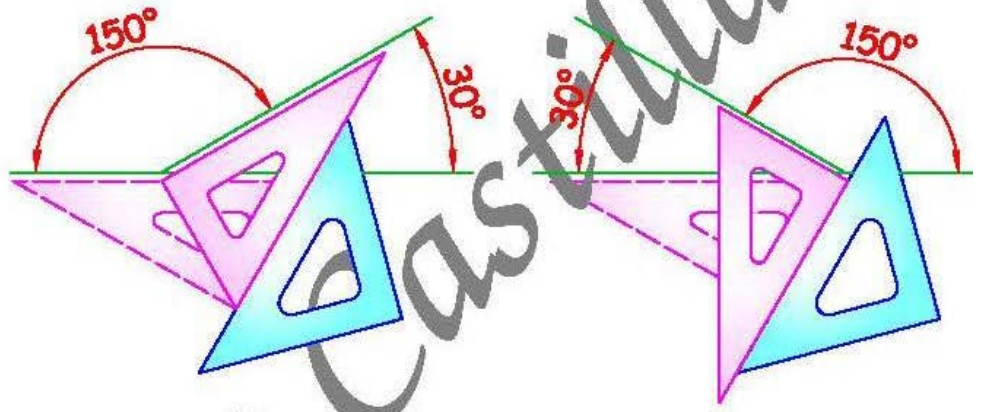
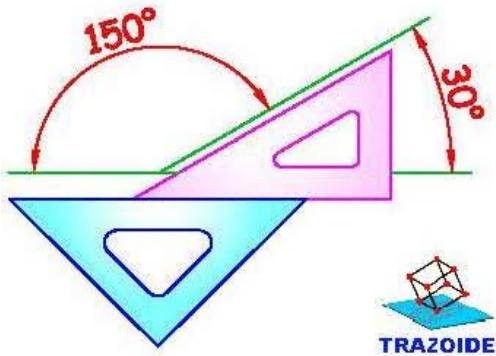


CARTABÓN



Juego correcto

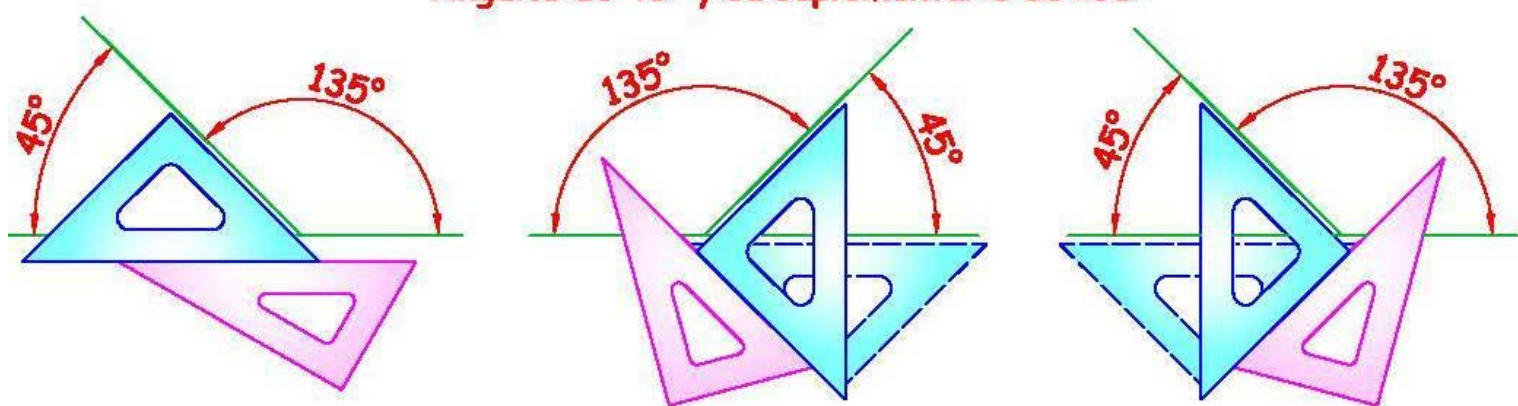
Ángulos de 30° y su suplementario de 150°



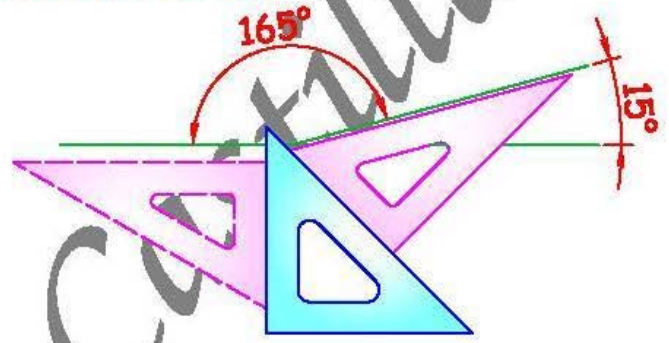
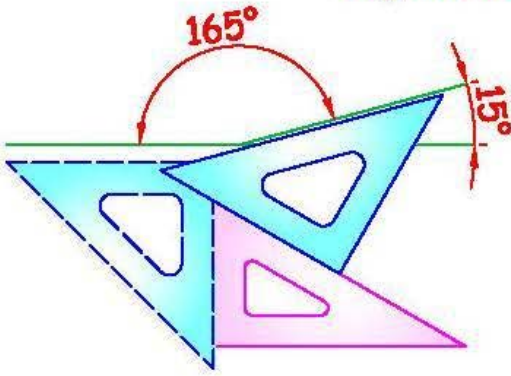
Ángulos de 60° y su suplementario de 120°



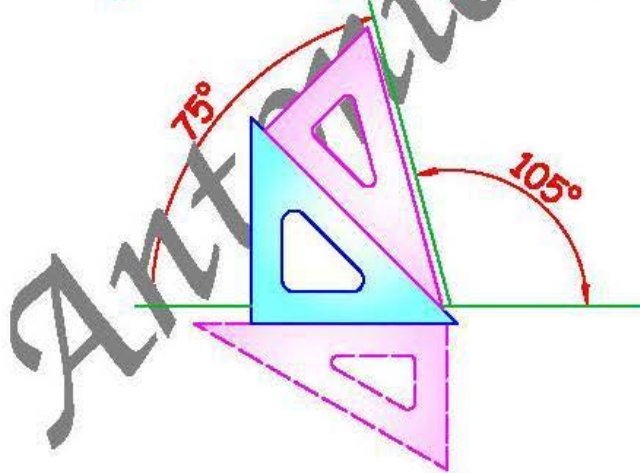
Ángulos de 45° y su suplementario de 135°



Ángulos de 15° y su suplementario de 165°



Ángulos de 75° y su suplementario de 105°



PARA PLANTEAR DUDAS IR AL FORO <http://trazoide.com/forum/>

PARA VER EXPLICACIONES EN VÍDEOS IR A LA SECCIÓN DE VÍDEOS <http://trazoide.com/videos/>

PARA BUSCAR O COMPRENDER ALGÚN TÉRMINO IR A LA WIKI <http://trazoide.com/wiki/>

PARA VER MÁS PROBLEMAS IR A LA WEB <http://trazoide.com/>

PARA VER NOVEDADES Y CURIOSIDADES IR AL BLOG <http://trazoide.com/blog/>

copyright © Antonio Castilla