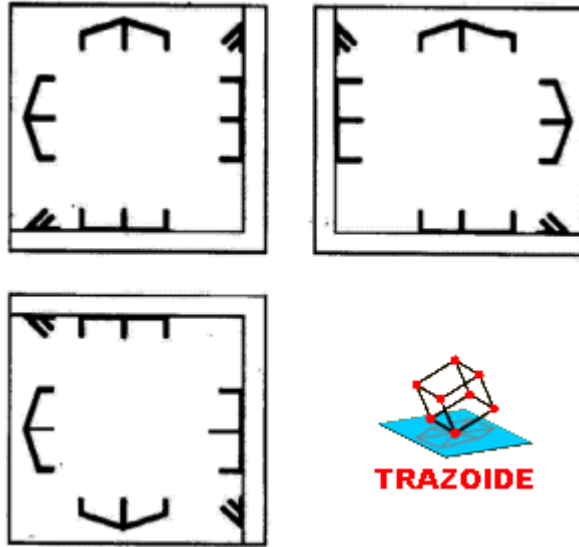


TRAZOIDE. Dibujo técnico por Antonio Castilla


Dadas tres cuñas biseladas triangulares macizas que se cortan.

Completar las tres vistas diédricas con la intersección de las mismas.

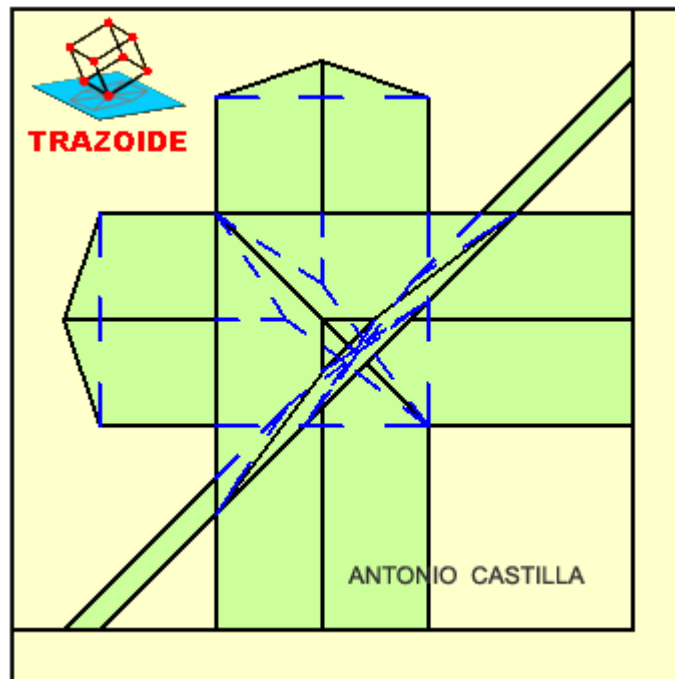


SOLUCIÓN


La perspectiva es esta :



Y su alzado este :



Las otras dos vistas son simétricas al alzado :



PARA PLANTEAR DUDAS IR AL FORO <http://trazoide.com/forum/>

PARA VER EXPLICACIONES EN VÍDEOS IR A LA SECCIÓN DE VÍDEOS <http://trazoide.com/videos/>

PARA BUSCAR O COMPRENDER ALGÚN TÉRMINO IR A LA WIKI <http://trazoide.com/wiki/>

PARA VER MÁS PROBLEMAS IR A LA WEB <http://trazoide.com/>

PARA VER NOVEDADES Y CURIOSIDADES IR AL BLOG <http://trazoide.com/blog/>

copyright © Antonio Castilla