


Dibuje a escala 4:3 la planta, el alzado y la vista lateral derecha del objeto dado por su perspectiva isométrica a escala 1:1 y sin coeficientes de reducción. Utilice como alzado la vista según A.

Tome las medidas directamente de la figura. Realice la acotación completa de la misma según normas. Se valorará el uso de la escala gráfica.

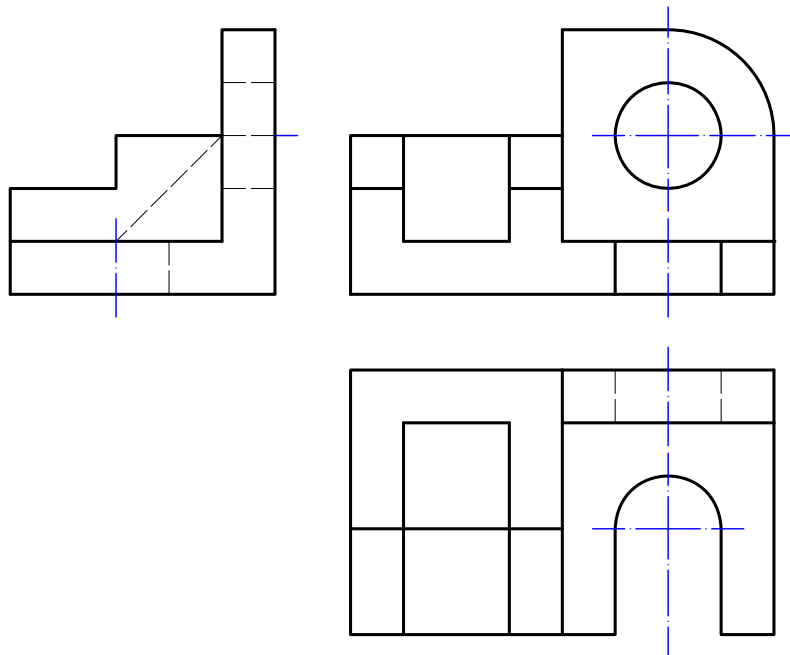
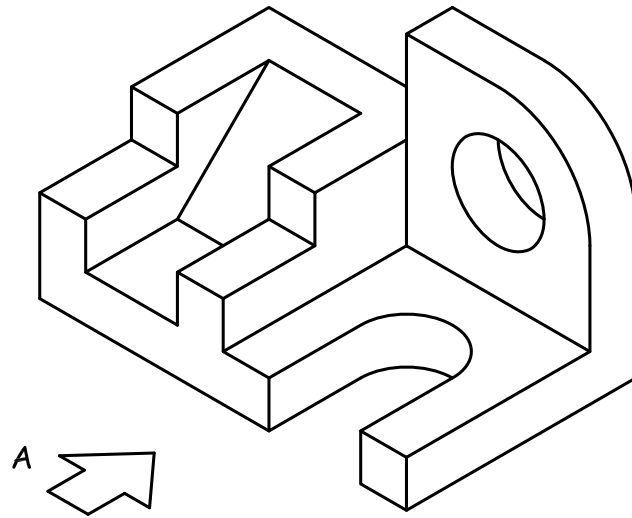


Escala	Vistas - 56	Antonio Castilla
1:1	Selectividad Valencia 2014	http://trazoide.com

Dibuje a escala 4:3 la planta, el alzado y la vista lateral derecha del objeto dado por su perspectiva isométrica a escala 1:1 y sin coeficientes de reducción. Utilice como alzado la vista según A.

Tome las medidas directamente de la figura. Realice la acotación completa de la misma según normas. Se valorará el uso de la escala gráfica.

Solución :



Escala	Vistas - 56	Antonio Castilla
1:1	<i>Solución</i>	http://trazoide.com
Selectividad Valencia 2014		

Contenido descargado de [Trazoide](#),
Dibujo mecánico, diseño industrial y cad,
por Antonio Castilla.

Visite nuestras páginas :

- [TRAZOIDE INDUSTRIAL](#) - Dibujo mecánico, diseño industrial y cad
 - <http://trazoide.com/industrial/>
- [FORO TRAZOIDE](#) – Foro sobre dibujo técnico y geometría
 - <http://trazoide.com/foro/>
- [GLOSARIO](#) – Diccionario técnico sobre dibujo técnico, mecánica, arquitectura, diseño naval, cad y geometría
 - <http://trazoide.com/glosario/>
- [VÍDEOS TRAZOIDE](#) – Vídeos sobre dibujo técnico
 - <http://trazoide.com/videos/>
- [EJERCICIOS DE DIBUJO TÉCNICO](#) – Resueltos y explicados
 - <http://trazoide.com/ejercicios-de-dibujo-tecnico/>
- [CANAL DE YOUTUBE TRAZOIDE](#) – Con vídeos de curiosidades y explicaciones
 - <https://www.youtube.com/user/canaltrazoide/videos>