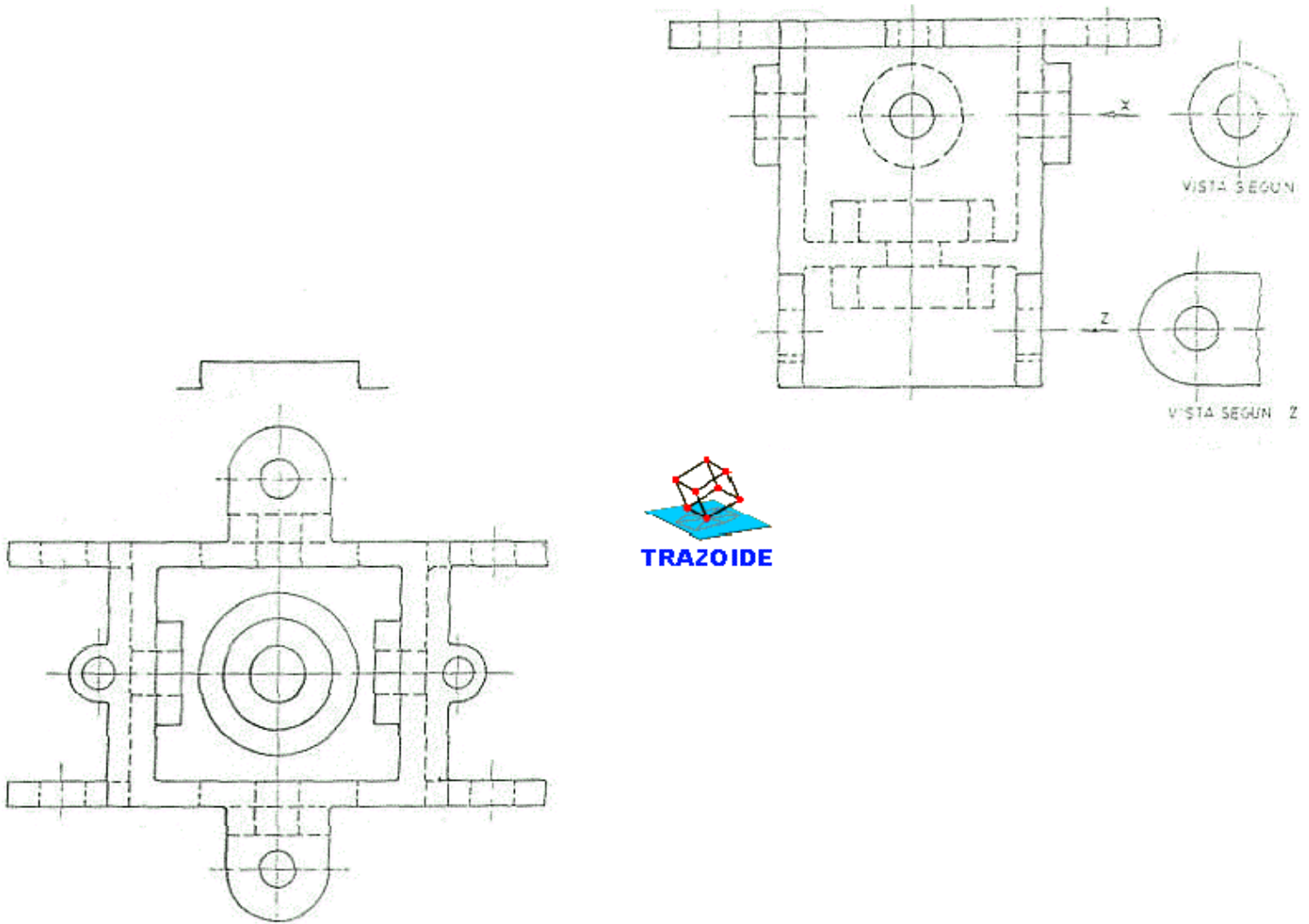


TRAZOIDE. Dibujo técnico por Antonio Castilla

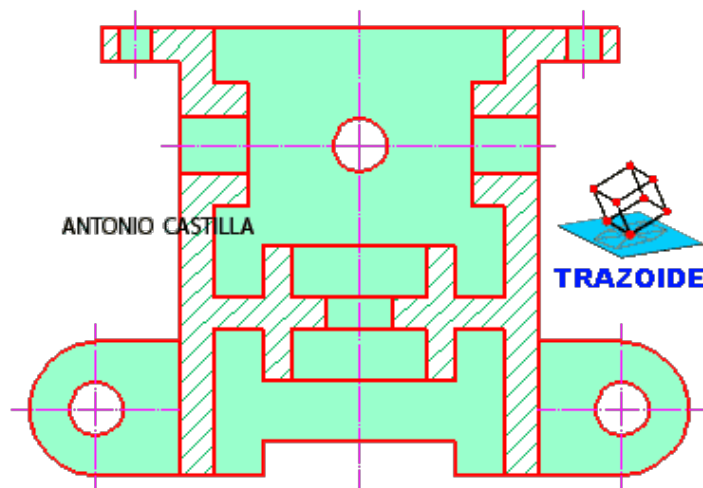
Dadas las vistas de una pieza determinar :

- 1 - Vista principal en corte total.
- 2 - Perfil izquierdo con semicorte.

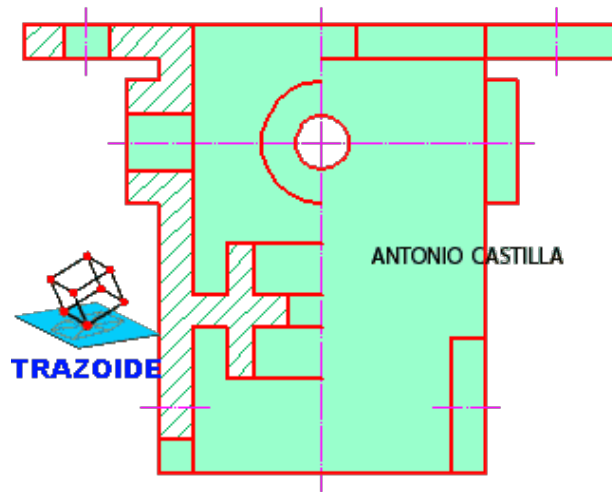


SOLUCIÓN

Este es el alzado con el corte total :



Y aquí el perfil con el semicorte :



PARA PLANTEAR DUDAS IR AL FORO <http://trazoide.com/forum/>

PARA VER EXPLICACIONES EN VÍDEOS IR A LA SECCIÓN DE VÍDEOS <http://trazoide.com/videos/>

PARA BUSCAR O COMPRENDER ALGÚN TÉRMINO IR A LA WIKI <http://trazoide.com/wiki/>

PARA VER MÁS PROBLEMAS IR A LA WEB <http://trazoide.com/>

PARA VER NOVEDADES Y CURIOSIDADES IR AL BLOG <http://trazoide.com/blog/>

copyright © Antonio Castilla