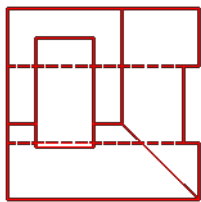
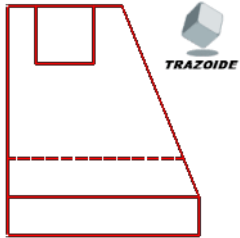


# TRAZOIDE. Dibujo técnico y geometría por Antonio Castilla

Dadas la planta y el alzado de un cuerpo representado a escala 1/1:

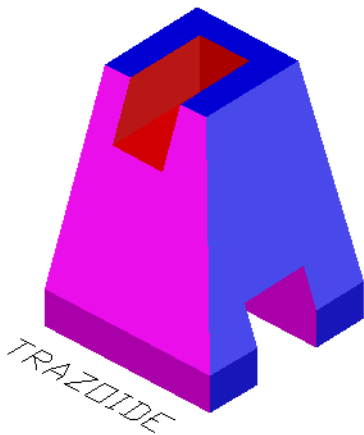
- Represente el perfil derecho delineado. Se deben incluir todas las aristas ocultas.
- Represente en croquis (a mano alzada) una vista axonométrica del objeto.

Selectividad Valencia 2014.

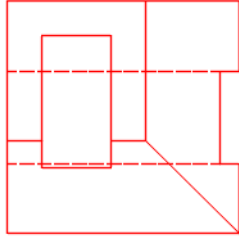
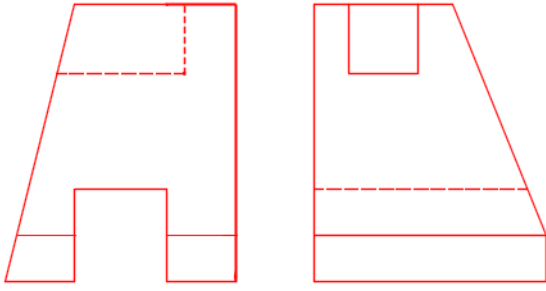


## SOLUCIÓN

Esta sería la forma de la pieza :



Y aquí las vistas :



**PARA PLANTEAR DUDAS IR AL [FORO](#)**

**PARA VER EXPLICACIONES EN VÍDEOS IR A LA [SECCIÓN DE VÍDEOS](#)**

**PARA EJERCICIOS DE CAD IR A [CAD](#)**

**PARA BUSCAR O COMPRENDER ALGÚN TÉRMINO IR A LA [WIKI](#)**

Desde 2006 hasta hoy, Antonio Castilla | antoniocastilla ARROBA trazoide . com