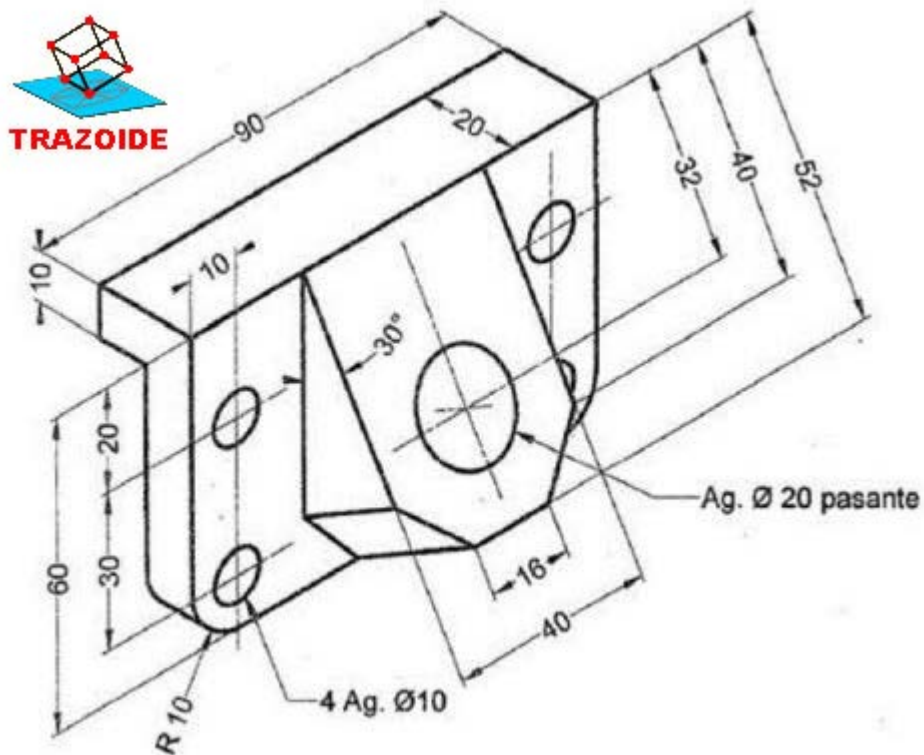


TRAZOIDE. Dibujo técnico por Antonio Castilla

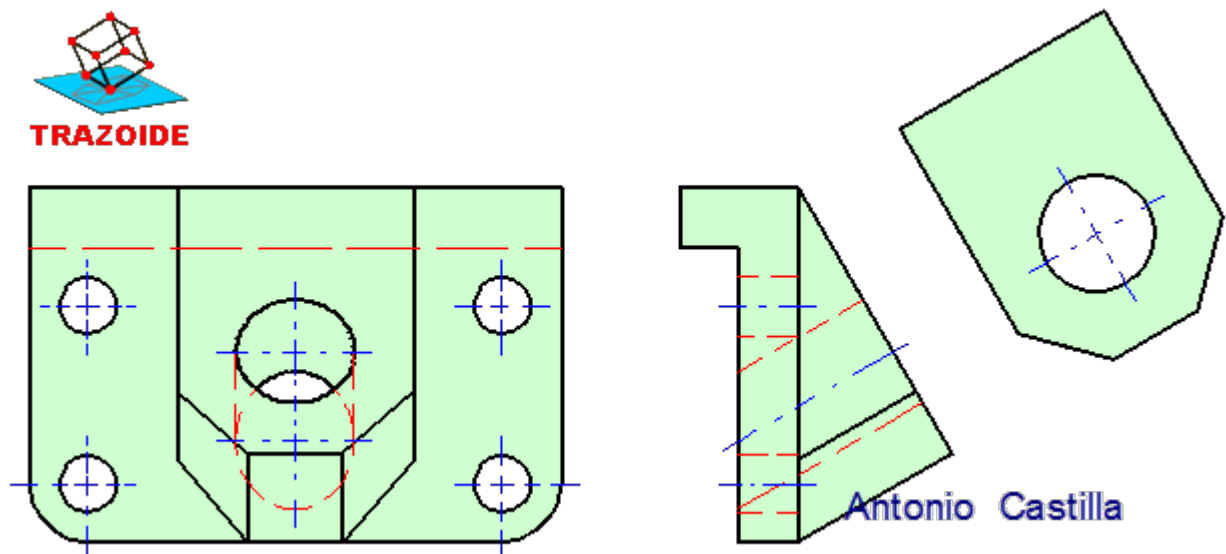
Conocida la perspectiva acotada de una pieza, dibujar las vistas que la definen correctamente :



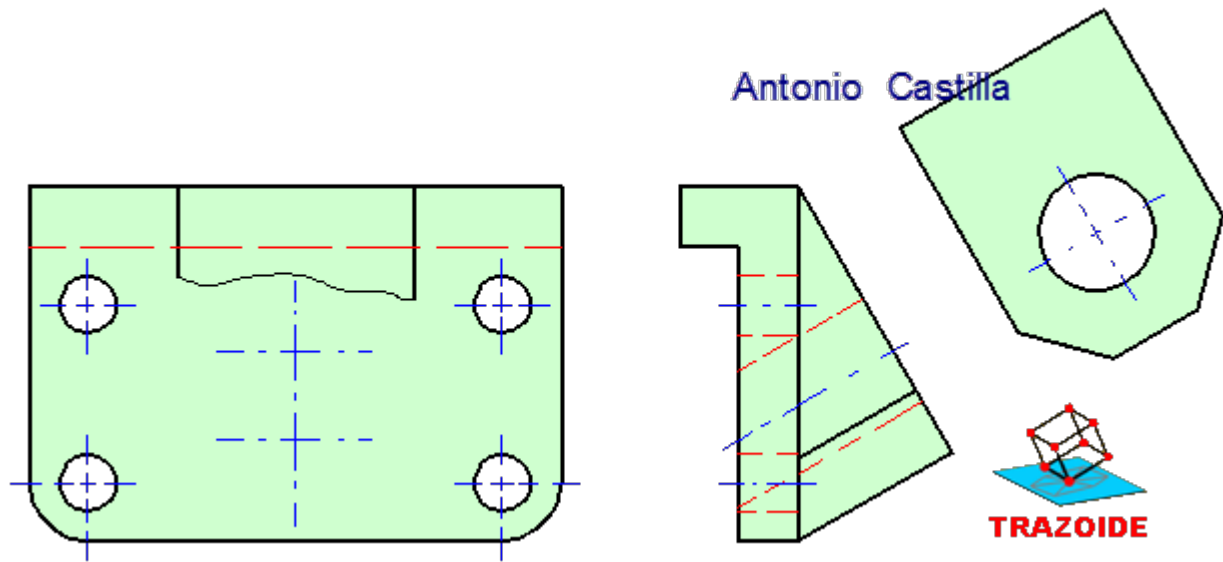
SOLUCIÓN

Las medidas de la cara oblicua se ven deformadas al no estar paralelas a la dirección en la que se mira.

Para conseguir dicha deformación se dibuja el perfil y después con rectas horizontales desde sus vértices se llevan al alzado.



No obstante, las formas que quedan deformadas no se suelen dibujar, y se sustituyen por una línea de rotura.



PARA PLANTEAR DUDAS IR AL FORO <http://trazoide.com/forum/>

PARA VER EXPLICACIONES EN VÍDEOS IR A LA SECCIÓN DE VÍDEOS <http://trazoide.com/videos/>

PARA BUSCAR O COMPRENDER ALGÚN TÉRMINO IR A LA WIKI <http://trazoide.com/wiki/>

PARA VER MÁS PROBLEMAS IR A LA WEB <http://trazoide.com/>

PARA VER NOVEDADES Y CURIOSIDADES IR AL BLOG <http://trazoide.com/blog/>

copyright © Antonio Castilla