


TRAZOIDE. Dibujo técnico por Antonio Castilla

Dado un cubo macizo de lado 70 mm con tres cortes según la línea poligonal que se representa, se realizan las siguientes operaciones :

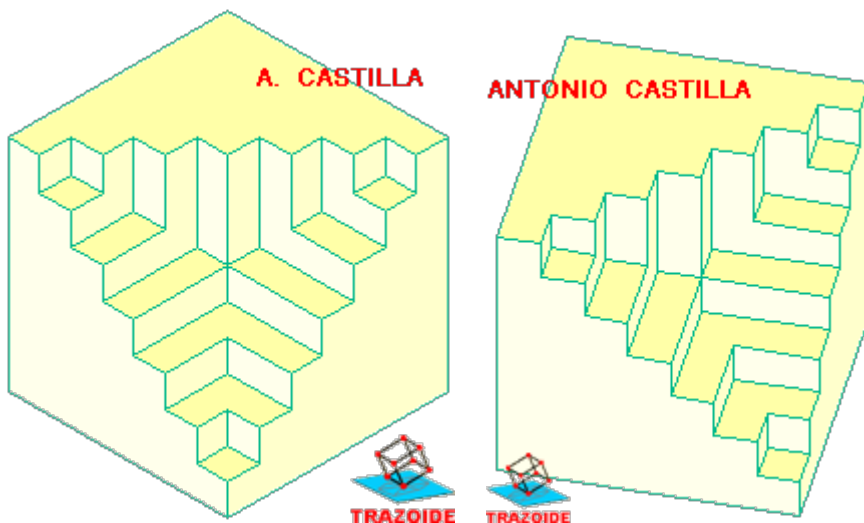
- Corte hasta intersección : efectuar los tres cortes hasta que estos se intersecten, suprimiendo la parte superior de los mismos.
- Corte pasante : efectuar los tres cortes hasta que lleguen a la cara opuesta del cubo, suprimiendo la parte superior de los mismos.

Dibujar los dos resultados en perspectiva.

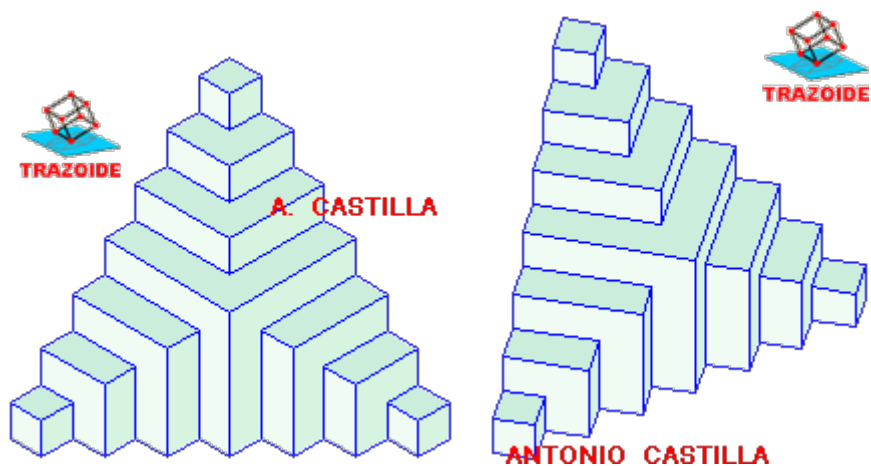


SOLUCIÓN

El cuerpo resultante según las condiciones del primer apartado y desde dos puntos de vista distintos :



Y este es el resultado según el segundo apartado :



PARA PLANTEAR DUDAS IR AL FORO <http://trazoide.com/forum/>

PARA VER EXPLICACIONES EN VÍDEOS IR A LA SECCIÓN DE VÍDEOS <http://trazoide.com/videos/>

PARA BUSCAR O COMPRENDER ALGÚN TÉRMINO IR A LA WIKI <http://trazoide.com/wiki/>

PARA VER MÁS PROBLEMAS IR A LA WEB <http://trazoide.com/>

PARA VER NOVEDADES Y CURIOSIDADES IR AL BLOG <http://trazoide.com/blog/>

copyright © Antonio Castilla