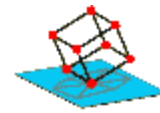


TRAZOIDE. Dibujo técnico por Antonio Castilla

A partir del Tangran debo construir una serie de figuras.

8. Los siete polígonos de la figura forman un cuadrado (Fig. 24). Se propone, utilizando siempre las siete figuras dadas, dibujar las figuras que se indican a continuación y que, como es lógico, resultarán equivalentes al cuadrado de la figura (Figs. 25 a 29).



TRAZOIDE

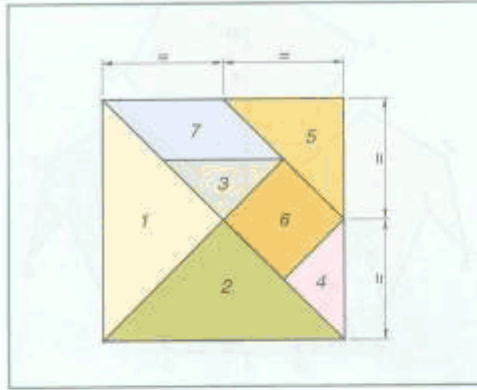


Fig. 25.




Fig. 26.

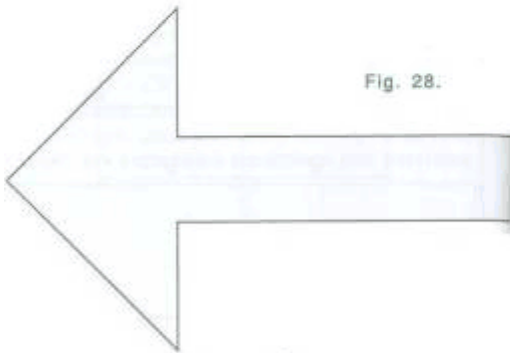


Fig. 28.




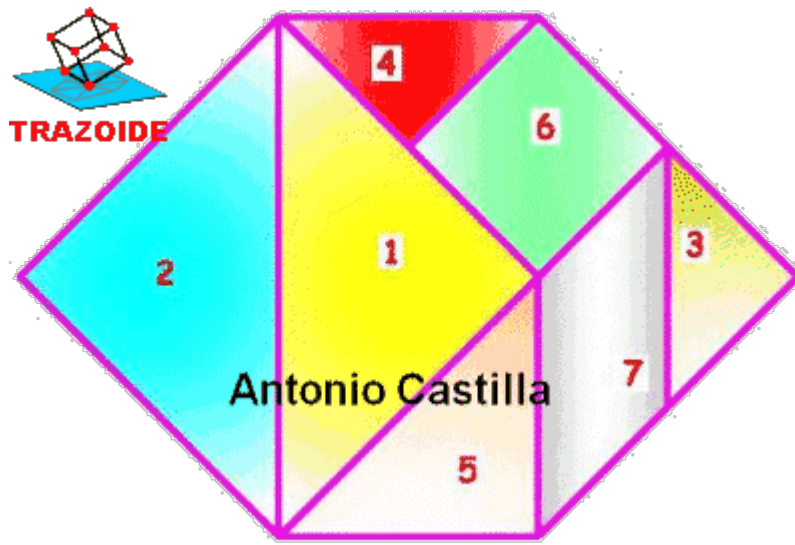
Fig. 29.



Fig. 27.

SOLUCIÓN

Aquí está el hexágono irregular :



PARA PLANTEAR DUDAS IR AL FORO <http://trazoide.com/forum/>

PARA VER EXPLICACIONES EN VÍDEOS IR A LA SECCIÓN DE VÍDEOS <http://trazoide.com/videos/>

PARA BUSCAR O COMPRENDER ALGÚN TÉRMINO IR A LA WIKI <http://trazoide.com/wiki/>

PARA VER MÁS PROBLEMAS IR A LA WEB <http://trazoide.com/>

PARA VER NOVEDADES Y CURIOSIDADES IR AL BLOG <http://trazoide.com/blog/>

copyright © Antonio Castilla