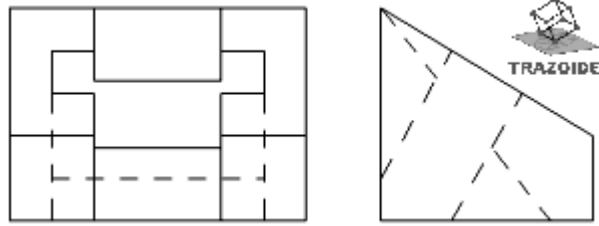


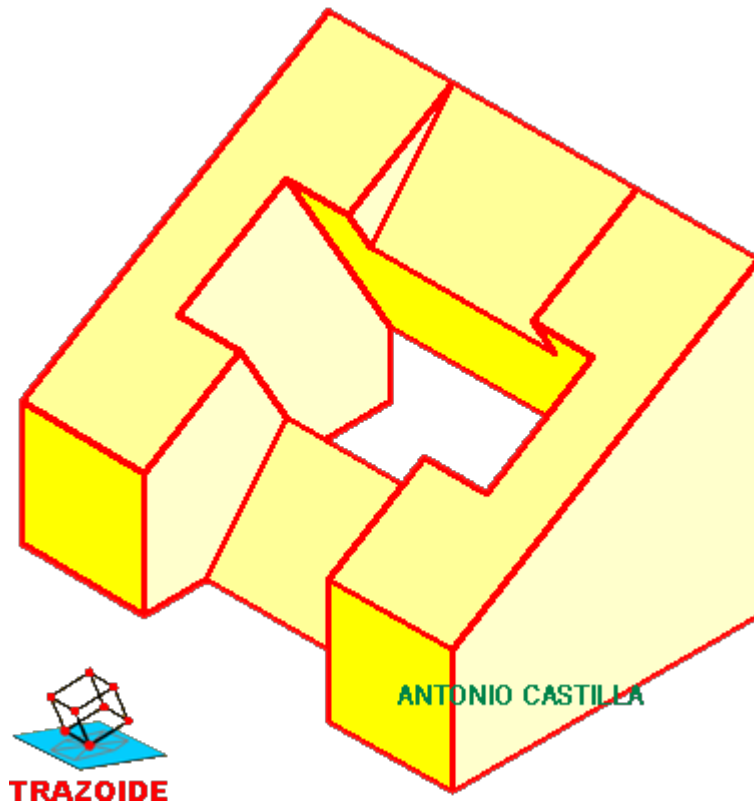
TRAZOIDE. Dibujo técnico por Antonio Castilla

Dado el alzado y el perfil de la siguiente pieza, dibujar la perspectiva isométrica.

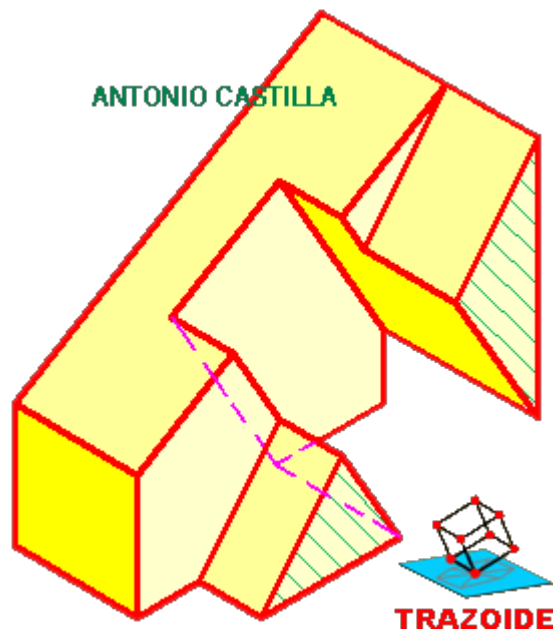


SOLUCIÓN

Esta es la perspectiva isométrica pedida :



La parte interior es la más difícil de visualizar, así que para que te hagas una idea te coloco también la isométrica de solo media pieza.



PARA PLANTEAR DUDAS IR AL FORO <http://trazoide.com/forum/>

PARA VER EXPLICACIONES EN VÍDEOS IR A LA SECCIÓN DE VÍDEOS <http://trazoide.com/videos/>

PARA BUSCAR O COMPRENDER ALGÚN TÉRMINO IR A LA WIKI <http://trazoide.com/wiki/>

PARA VER MÁS PROBLEMAS IR A LA WEB <http://trazoide.com/>

PARA VER NOVEDADES Y CURIOSIDADES IR AL BLOG <http://trazoide.com/blog/>

copyright © Antonio Castilla