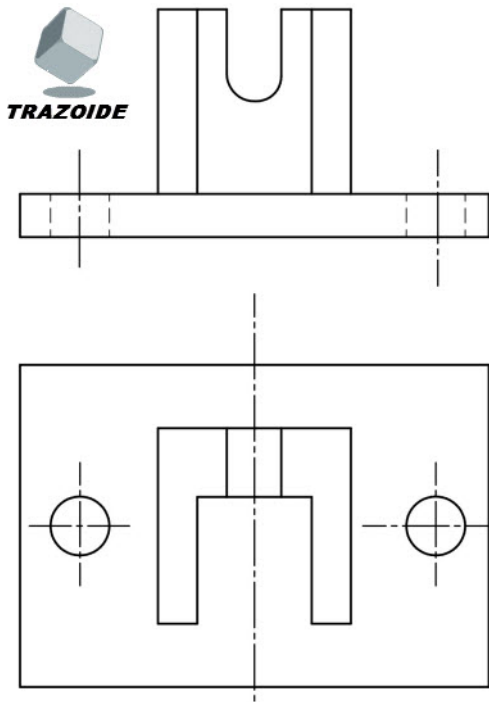


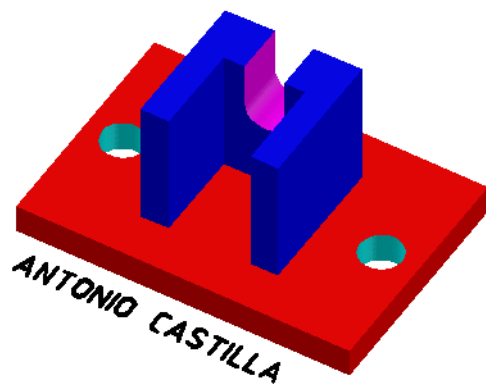
# TRAZOIDE. Dibujo técnico y geometría por Antonio Castilla

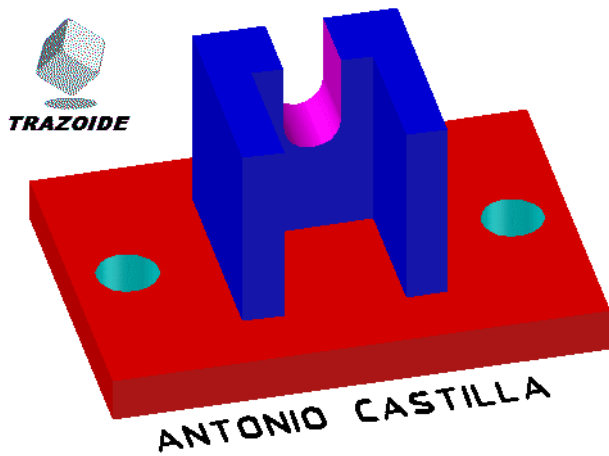
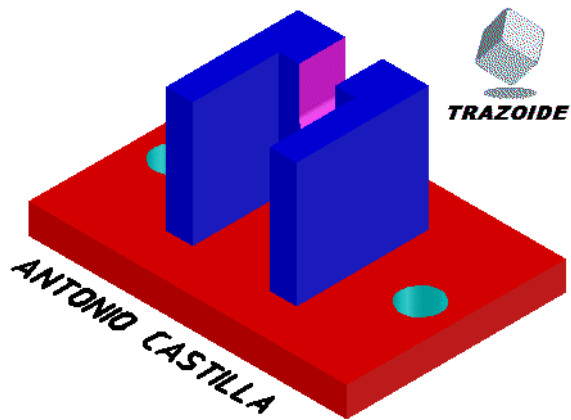
Dados el alzado y la planta de un soporte angular determinar su perfil o vista faltante.



## SOLUCIÓN

Con estas imágenes podrás ver el objeto como es en el espacio





PARA PLANTEAR DUDAS IR AL FORO <http://trazoide.com/foro/>

PARA VER EXPLICACIONES EN VÍDEOS IR A LA SECCIÁN DE VÍDEOS <http://trazoide.com/videos/>

PARA EJERCICIOS DE CAD IR A BLOG DE CAD <http://trazoide.com/cad/>

PARA BUSCAR O COMPRENDER ALGÚN TÉRMINO IR AL GLOSARIO <http://trazoide.com/glosario/>

PARA CONSULTAR MÁS EJERCICIOS RESUELTOS IR <http://trazoide.com/ejercicios-de-dibujo-tecnico.html>

Desde 2006 hasta hoy, Antonio Castilla | Contacto : antoniocastilla ARROBA trazoide . com